

Č.

Jméno \_\_\_\_\_<sup>1</sup>

Adresa školy \_\_\_\_\_

Adresa bydliště \_\_\_\_\_

## Dějepisná olympiáda

39. ročník – 2009/2010

### Zadání úkolů školního kola – test

Tematické zaměření ročníku: **Od pěstního klínu ke Zlaté bule sicilské**

#### Úkol č. 1

Bývají pravěké památky uloženy v archivech? (ano/ne) \_\_\_\_\_

Své tvrzení zdůvodni: \_\_\_\_\_

\_\_\_\_\_

2 body

#### Úkol č. 2

Napiš do tabulky vývojové typy člověka ve správném pořadí od nejstaršího typu po nejnovější. Do druhého sloupce napiš odpovídající latinské názvy.

*člověk dnešního typu - člověk rozumný - člověk vzpřímený - člověk zručný*

*homo erectus - homo habilis - homo sapiens - homo sapiens sapiens (recens)*

Vývojové typy člověka	Latinské názvy

4 body

#### Úkol č. 3

V následujícím textu se skrývá 5 názvů zbraní. Najdi je a podtrhni.

„Kluk věší provaz na strom. Blízko píská kos a mečí koza. Koza shodila koště, pískání přestalo.

5 bodů

<sup>1</sup> Jméno a adresu vyplňte až po ukončení soutěžního kola.

#### Úkol č. 4

Mezi pojmy z určité oblasti se připeletl vždy jeden, který s danou oblastí nesouvisí. Napiš ho a svou odpověď zdůvodni.

(Příklad: jeskyně Kůlna, Dolní Věstonice, Přezletice, Altamira – mezi pojmy nepatří Altamira, protože se nenachází v České republice)

- a) Anthropos, rekonstrukce dospělého mamuta, hora Říp, mamutí mládě
- b) Dolní Věstonice, jižní Morava, venuše, soška vytesaná z kamene

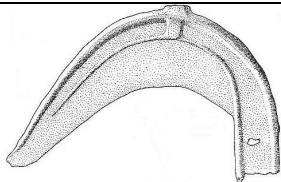
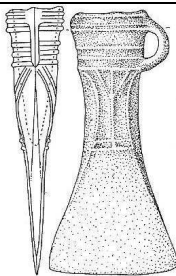
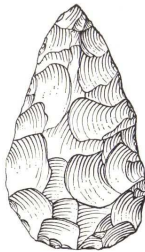
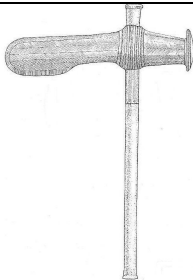
a) \_\_\_\_\_

b) \_\_\_\_\_

2 body

#### Úkol č. 5

Pojmenuj nástroje pravěkého člověka.

			
A.	B.	C.	D.

Zakroužkuj jeden z těchto nástrojů, který patří do starší doby kamenné.

5 bodů

#### Úkol č. 6

Rozhodni, které tvrzení je správné, a to zakroužkuj.

Nástroje a zbraně vyrobené z mědi byly **tvrdé/měkké**. **Rychle/pomalů** se opotřebovávaly. Lidé začali časem mísit měď s jinými kovy. Zprvu s arzenem, později obvykle se **zlatem/cínem**. Tak vznikl nový kov **železo/bronz**. Zatímco měděné výrobky byly zhotovovány kovááním nebo tepáním, výrobky z nového kovu se zhotovovaly \_\_\_\_\_ (doplň způsob výroby).

5 bodů

### Úkol č. 7

Urči slavná díla z pravěku – napiš jméno nebo místo nálezů.

1.	2.	3.

1. \_\_\_\_\_
2. \_\_\_\_\_
3. \_\_\_\_\_

3 body

### Úkol č. 8

Doplň do tabulky názvy knih Eduarda Štorcha.

4 body


### Úkol č. 9

Co spojuje následující pojmy? Napiš slovo nadřazené.



1 bod



### Úkol č. 10

O původním náboženství Slovanů se dochovalo jen málo zpráv. Přesto víme, že všichni Slované se snažili naklonit si vládce hromu boha \_\_\_\_\_. Bohyně \_\_\_\_\_ představovala bohyni smrti.

Jmenuj lidový zvyk (obvyčej), který se uchoval v některých oblastech dodnes a navazuje na náboženství starých Slovanů: \_\_\_\_\_.

3 body	
--------	--

### Úkol č. 11

Opravte chybné údaje v textu:

Zprávu o prvním politickém útvaru Slovanů na našem území najdeme v kronice Kosmově. Vypráví o kupci Sámovi, který se postavil na stranu Slovanů, když povstali proti Maďarům. Následně pod jeho vedením porazili Slované i vojsko francouzského krále Karla Velikého u pevnosti Vogastisburk.

**Chybně**

**Správně**

_____	_____
_____	_____
_____	_____
_____	_____

4 body	
--------	--

### Úkol č. 12

Napiš jména velkomoravských panovníků (ve správném pořadí) a čím se proslavili. Použij všechna následující slovní spojení:


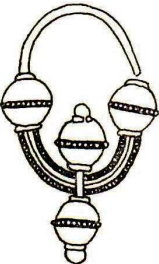

- nedokázal zabránit rozpadu Velkomoravské říše
- pozval Konstantina a Metoděje
- připojil k Moravě Čechy
- rozšířil území Velké Moravy
- spojil knížectví moravské s nitranským
- vytvořil Velkou Moravu

jméno panovníka	čím se proslavil

4 + 6 = 10 bodů	
-----------------	--

**Úkol č. 13**

K obrázkům archeologických nálezů z Velké Moravy napiš názvy:

		
1.	2.	3.

3 body

**Úkol č. 14**


Kdo se to zlobí nad zlomenými pruty?

\_\_\_\_\_

Co chtěl svým synům dokázat?

\_\_\_\_\_

**Krucinál, jak to, že ty pruty ruply?**

2 body

**Úkol č. 15**

Utvoř správné dvojice. Do prostředního sloupce запиš k číslům odpovídající písmena.

1. 863	1.	a) první titul českého krále
2. 935 (někdy se uvádí 929)	2.	b) příchod věrozvěstů
3. 995	3.	c) vydání Zlaté buly sicilské
4. 1085	4.	d) vyvraždění Slavníkovců
5. 1212	5.	e) zavraždění knížete Václava

Které z těchto událostí si v dnešní době připomínáme jako státní svátky?


Dne 28. 9. \_\_\_\_\_

Dne 5. 7. \_\_\_\_\_

7 bodů

**Úkol č. 16**

Pojmenuj typy staveb na obrázcích.



Ve kterém slohu byly tyto stavby postaveny? \_\_\_\_\_

4 body	
--------	--

Celkem \_\_\_\_\_ bodů.

**Max. počet bodů celkem = 64 bodů.  
Z toho 60% = 38 bodů.**